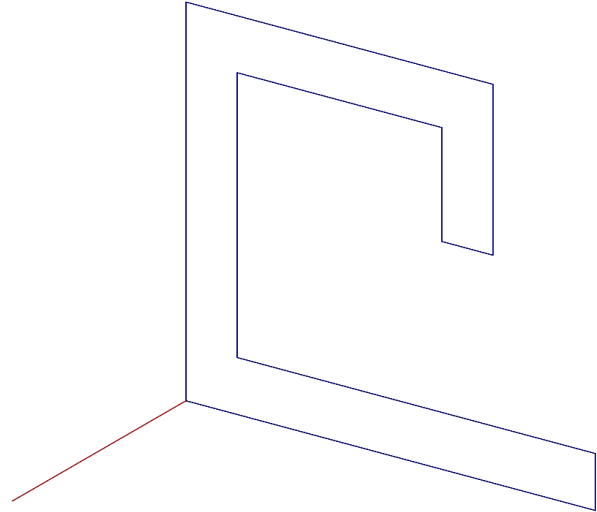



## Extrusion

### Beispiel 1

Gegeben ist das blaue Polygon.


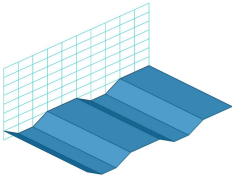
Erzeuge durch Extrusion entlang der roten Strecke das Profileisen (Volumenmodell).



### Beispiel 2

Gegeben ist das blaue Polygon.

Erzeuge durch Extrusion entlang der roten Strecke das Profilblech (Flächenmodell).



Lösung



### Hinweise zur Lösung

Zu diesem Thema stehen zur Verfügung:

- Handlösung (Zugriff mittels qr-Code links)
- Handlösung: pdf-Datei
- Präsentation:  
Erzeugung des Profileisens mit GAM