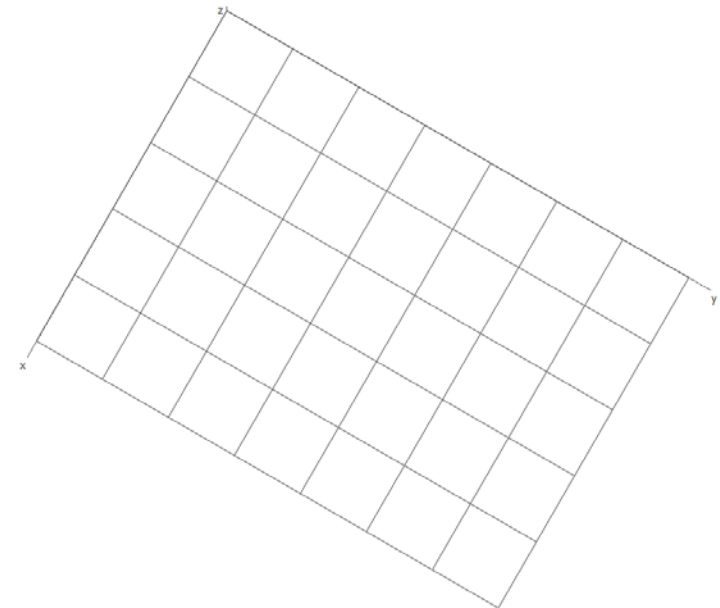
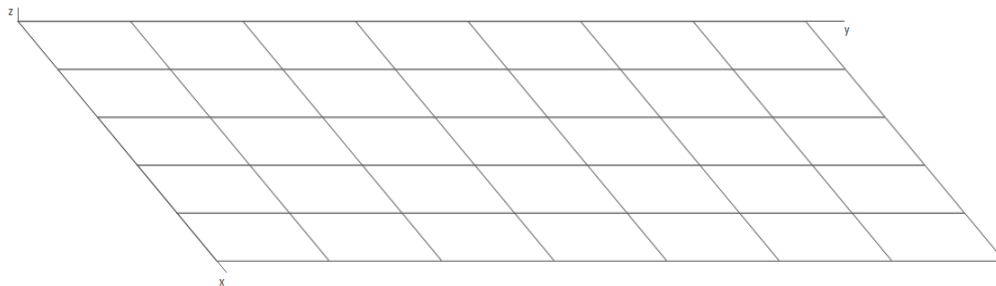
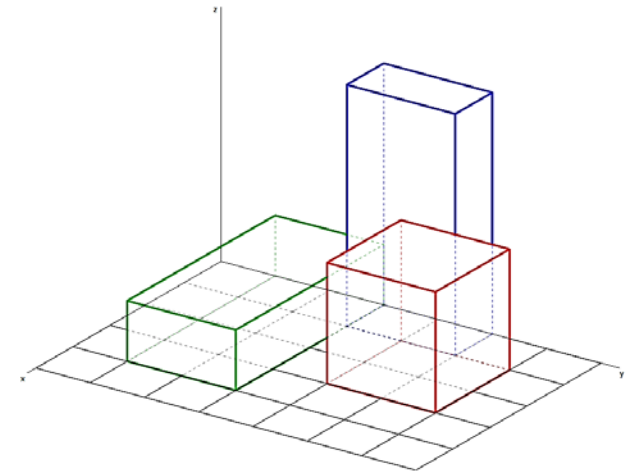


GEMEINDEZENTRUM

Grundmassenmodelle: blauer und grüner Quader je $40 \times 20 \times 10$; roter Würfel (siehe Vorschaubild)
Ein Kästchen im Bodenraster ist 10×10 groß.
Alle Maße können als Meter interpretiert werden.

Aufgabenstellung:

- Handkonstruktion:
Vergleiche Frontalriss und Horizontalriss auf diesem Blatt.
- Erzeuge mit einer 3D-CAD- Software dieses Zentrum und stelle diese Ansichten ein.



Lösung

