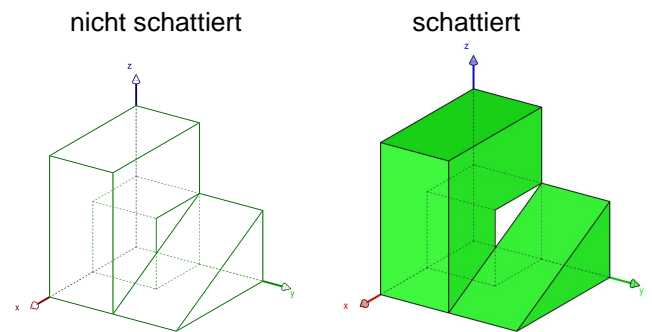


Spiegeln - Grundwissen

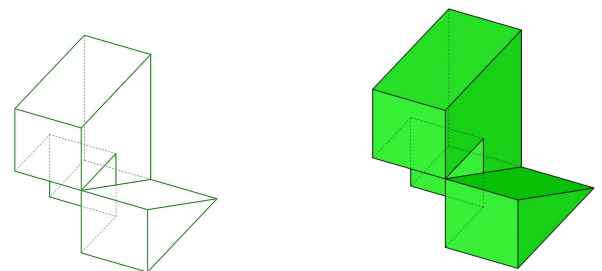
Ein Würfelteil liegt in der Raumecke [xyz].
An welcher Koordinatenebene wird er gespiegelt?

Ausgangslage:

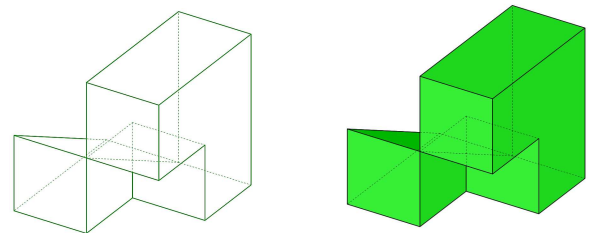


Neue Lagen:

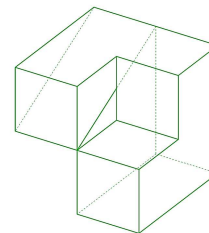
Der Würfelteil wurde an der yz-Ebene gespiegelt.



Der Würfelteil wurde dann an der zx-Ebene gespiegelt.



Der Würfelteil wurde dann an der xy-Ebene gespiegelt.



Der Würfelteil wurde dann an der zx-Ebene gespiegelt.

